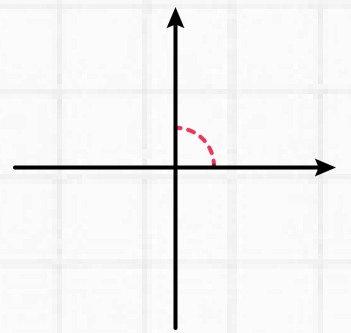


CONOCE LAS RECTAS Perpendiculares

Cuando **dos** líneas se cruzan formando un ángulo recto (90 grados).


¿Cuándo **son** rectas perpendiculares?

- Se cruzan formando un ángulo recto (90 grados).

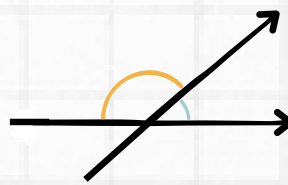


¿Cuándo **no son** rectas perpendiculares?

- No se cruzan.



- Se cruzan pero el ángulo **no** es de 90 grados.




Ejemplos

Rectas perpendiculares


+ Signo de suma.


× Signo de multiplicación.

 Líneas de cuaderno cuadradas.

Rectas no perpendiculares

= Signo de igualdad.


 Líneas de cuaderno.

 Tijeras abiertas.

¡Prueba tú mismo!

Observa la siguiente imagen y señala:

1. **Color verde:** Rectas perpendiculares (ángulos rectos).
2. **Color rojo:** Rectas no perpendiculares.



Usando el código QR, encontrarás el solucionario.