


CONOCE LAS RECTAS


Paralelas

Son líneas que **siempre** están a la misma distancia y **nunca** se cruzan.

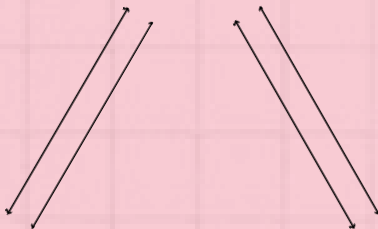
Rectas paralelas horizontales.



Rectas paralelas verticales.





Rectas paralelas inclinadas.

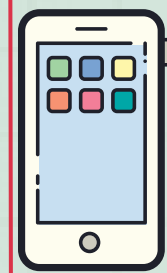


Ejemplos

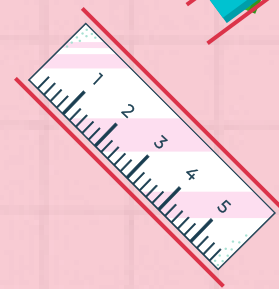

Rectas paralelas horizontales.



Rectas paralelas verticales.




Rectas paralelas inclinadas.



¡Prueba tú mismo!

Dada la siguiente imagen, identifica:

- Tres rectas paralelas horizontales.
- Tres rectas paralelas verticales.
- Dos rectas paralelas inclinadas.



Usando el código QR, encontrarás el solucionario.

